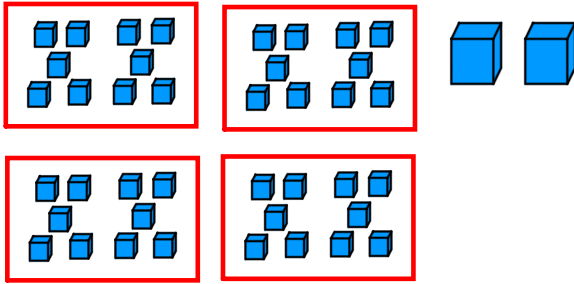
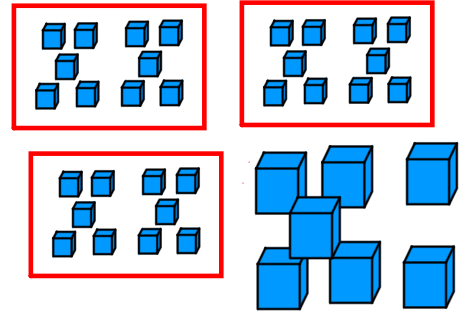


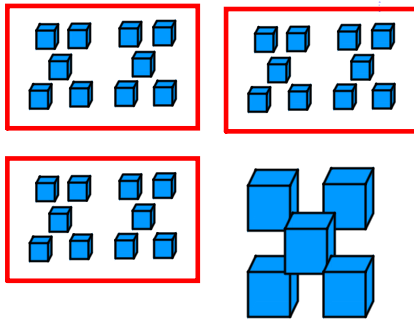
Entoure le nombre de cubes le plus grand



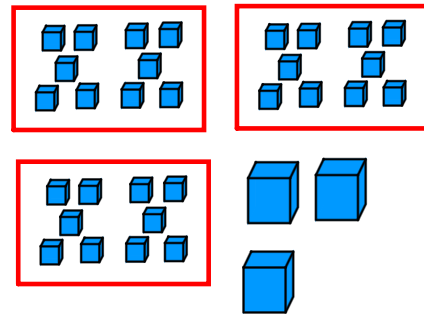
Nombre de cubes : .....



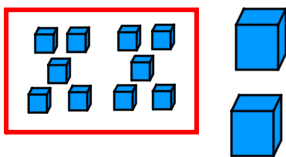
Nombre de cubes : .....



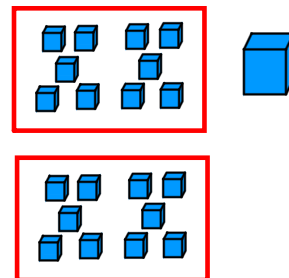
Nombre de cubes : .....



Nombre de cubes : .....



Nombre de cubes : .....



Nombre de cubes : .....

Range les 6 nombres de cubes ci-dessus du plus petit au plus grand.

..... ; ..... ; ..... ; ..... ; ..... ; .....

Range ces 6 nombres du plus petit au plus grand :

**32 ; 23 ; 28 ; 34 ; 45 ; 14**

..... ; ..... ; ..... ; ..... ; ..... ; .....